



PERÍODO: TARDE

DURAÇÃO DA PROVA: 02:30 H (Duas horas e trinta minutos)

PROVAS OBJETIVAS: 28/12/2025

HORÁRIO: 14:00 HORAS

PROFESSOR DE EDUCAÇÃO INFANTIL II

ATENÇÃO!

Verifique se as informações descritas neste Caderno de Questões Objetivas coincidem com o registrado no topo de cada página e com a sua Folha de Respostas. Caso contrário, notifique o fiscal de sala para que sejam tomadas as devidas providências.

Informações gerais:

1. Você receberá do fiscal de sala o material descrito a seguir:

- a. este Caderno contém **25 (VINTE E CINCO)** questões de múltipla escolha;
- b. uma Folha de Respostas destinada às respostas das questões objetivas formuladas na prova.

2. Ao receber o Cartão de Respostas você deve:

- a. conferir seu nome e número de inscrição;
- b. ler atentamente as instruções para a marcação das respostas das questões objetivas;
- c. assinar a Folha de Respostas, no espaço reservado, com caneta de cor azul ou preta.

3. As questões são identificadas pelo número que se situa antes do seu enunciado.

4. Durante a aplicação da prova não será permitido:

- a. qualquer tipo de comunicação entre os examinandos;
- b. levantar-se da cadeira sem a devida autorização do fiscal de sala;
- c. portar aparelhos eletrônicos, tais como telefone celular, notebook, receptor, gravador ou máquina fotográfica ou equivalente.

5. Não será permitida a troca da Folha de Respostas por erro do candidato.

6. Reserve tempo suficiente para marcar sua Folha de Respostas.

7. Para fins de correção da Folha de Respostas, serão levadas em consideração apenas as marcações realizadas na Folha de Respostas.

8. Na Folha de Respostas, para cada questão, assinale apenas uma opção, pois atribuir-se-á nota zero a toda questão com mais de uma opção assinalada, ainda que dentre elas se encontre a correta.

9. A Folha de Respostas não pode ser dobrada, amassada, rasurada ou manchada nem pode conter nenhum registro fora dos locais destinados às respostas.

10. Quando terminar sua prova, você deverá, **OBRIGATORIAMENTE**, entregar a Folha de Respostas devidamente preenchida e assinada ao fiscal da sala. Aquele que descumprir esta regra será **ELIMINADO do Certame**.

LINGUA PORTUGUESA

TEXTO: “Dois Lados da Mesma Calçada”

Todas as manhãs, a cidade acorda no mesmo horário, mas nem todos despertam do mesmo jeito. Na esquina da avenida principal, um homem estende um pedaço de papelão no chão enquanto, do outro lado da rua, uma cafeteria abre as portas com aroma de café recém-passado e wi-fi disponível.

O sinal fecha. O motorista observa o pedinte por alguns segundos, tempo suficiente para pensar que está atrasado, mas não o bastante para refletir sobre o motivo daquele homem estar ali. O sinal abre. A cidade segue.

Mais adiante, uma criança caminha para a escola pública com o tênis gasto, desviando de poças e promessas não cumpridas. Na calçada oposta, outra criança entra no carro com mochila nova, fone de ouvido e aulas extras à tarde. Ambas têm sonhos, mas apenas uma tem garantias.

A desigualdade não grita — ela sussurra. Está nos detalhes: na pressa de quem passa, no silêncio de quem fica, na naturalização do abismo que separa histórias que dividem o mesmo espaço, mas nunca as mesmas oportunidades.

Ao final do dia, o sol se põe para todos. Mas, enquanto alguns observam o céu pela janela de casa, outros apenas recolhem o papelão, esperando que amanhã a cidade, quem sabe, olhe com mais atenção para os dois lados da mesma calçada

QUESTÃO 01

Considere as assertivas a seguir, a respeito da organização, da linguagem e da intencionalidade do texto:

- I. O texto estrutura-se a partir de recortes do cotidiano, articulando observação subjetiva e crítica social implícita, sem recorrer a dados estatísticos ou argumentação formal.
- II. A progressão textual ocorre por meio de cenas breves e contrastivas, que dispensam enredo complexo, mas constroem sentido pela justaposição de situações.
- III. A finalidade central do texto é relatar acontecimentos de relevância pública com compromisso explícito com a objetividade e a imparcialidade informativa.

Com base na análise das assertivas e nas características predominantes do texto, assinale a alternativa que melhor identifica o gênero textual:

- A. ☐ Reportagem
- B. ☐ Conto literário
- C. ☐ Artigo de opinião
- D. ☐ Crônica

QUESTÃO 02

A partir da leitura do texto, analise as assertivas a seguir:

- I. A ideia central do texto consiste na crítica à desigualdade social naturalizada no cotidiano urbano, evidenciada por contrastes silenciosos entre indivíduos que compartilham o mesmo espaço, mas não as mesmas oportunidades.
- II. As descrições de cenas cotidianas, como o sinal de trânsito, a cafeteria e o percurso escolar das crianças, funcionam como ideias periféricas que sustentam e exemplificam a reflexão central proposta pelo texto.
- III. O foco principal do texto está na denúncia direta de políticas públicas ineficientes, apresentadas de forma explícita como causa da desigualdade social.

Assinale a alternativa correta:

- A. ☐ Apenas a assertiva II está correta.
- B. ☐ As assertivas I e II estão corretas.
- C. ☐ Apenas a assertiva I está correta.
- D. ☐ As assertivas II e III estão corretas.

QUESTÃO 03

Análise as assertivas a seguir, relativas à colocação dos pronomes oblíquos átonos no português padrão:

- I. A presença de advérbio de negação antes do verbo exige a colocação do pronome oblíquo átono em posição proclítica.
- II. Em orações iniciadas por verbo no futuro do presente, a ênclise é a forma preferencial na norma-padrão escrita.
- III. A mesóclise ocorre exclusivamente quando o verbo se encontra no futuro do presente ou no futuro do pretérito, desde que não haja fator de atração.

Assinale a alternativa correta:

- A. () Apenas a assertiva I está correta.
- B. () As assertivas I e III estão corretas.**
- C. () Apenas a assertiva II está correta.
- D. () As assertivas II e III estão corretas.

QUESTÃO 04

Analise as assertivas a seguir, relativas ao emprego do sinal indicativo de crase:

- I. Entregou o relatório **à diretora** da instituição.
- II. Assistiu **à palestra** sobre desigualdade social.
- III. Chegou **à tarde** para a reunião.

Assinale a alternativa correta:

- A. () Apenas a assertiva I apresenta emprego obrigatório do sinal indicativo de crase, pois o verbo pede complemento com preposição, em II o verbo é VTD e não acompanha preposição e em III a locução em negrito não é escrita com crase.
- B. () As assertivas I, II e III apresentam emprego correto do sinal indicativo de crase, pois em I o verbo é VTDI e o complemento pede preposição, em II o verbo é VTI e o complemento pede preposição e em III a locução adverbial tem crase porque trata-se de uma locução adverbial feminina de tempo.**
- C. () Apenas as assertivas I e II apresentam emprego correto do sinal indicativo de crase, pois ambos os verbos são VTI, isto é, pedem complemento com preposição e crase.
- D. () Apenas a assertiva III apresenta emprego correto do sinal indicativo de crase porque a locução adverbial feminina complementa o verbo “chegar”.

QUESTÃO 05

Analise as assertivas a seguir quanto ao uso adequado dos porquês:

- I. Não compreendeu por que o projeto foi adiado.
- II. Ignorava o porquê de tanta resistência à proposta.
- III. As razões porque o evento foi cancelado não foram divulgadas.

Assinale a alternativa correta:

- A. () Apenas as assertivas I e II estão corretas.**
- B. () Apenas as assertivas II e III estão corretas.
- C. () Apenas a assertiva I está correta.
- D. () As assertivas I, II e III estão corretas.

MATEMÁTICA

QUESTÃO 06

Um produto custa R\$ 300,00. Primeiro, sofre um aumento de 20%. Depois, sobre o novo preço, recebe um desconto de 10%.

O preço final do produto é:

- A. () R\$ 312,00
- B. () R\$ 320,00
- C. () R\$ 324,00**
- D. () R\$ 330,00

QUESTÃO 07

Uma impressora faz 600 cópias em 8 minutos. Suponha que a quantidade de cópias seja diretamente proporcional ao tempo de funcionamento e ao número de impressoras em operação.

Quantas cópias 3 impressoras idênticas farão juntas em 10 minutos?

- A. () 1.800
- B. () 2.000
- C. () 2.250**
- D. () 2.400

QUESTÃO 08

Um capital de R\$ 1.000,00 pode ser aplicado em duas modalidades:

Opção A: juros simples de 12% ao ano, por 2 anos;

Opção B: juros compostos de 10% ao ano, também por 2 anos.

A diferença entre os montantes finais da opção A e da opção B é:

- A. () R\$ 10,00
- B. () R\$ 20,00
- C. () R\$ 30,00**
- D. () R\$ 40,00

QUESTÃO 09

Em um teatro, o ingresso inteiro custa R\$ 30,00 e a meia-entrada custa R\$ 18,00.

Em certo dia, foram vendidos 20 ingressos, entre inteiros e meias, totalizando R\$ 480,00.

Quantos ingressos inteiros foram vendidos?

- A. () 8
- B. () 10**
- C. () 12
- D. () 14

QUESTÃO 10

Uma empresa possui dois setores, administrativo e Operacional, e deseja calcular o salário médio de seus funcionários considerando a empresa inteira.

Sabe-se que:

No setor Administrativo, há 8 funcionários com salário médio de R\$ 2.000,00.

No setor Operacional, há 12 funcionários com salário médio de R\$ 2.600,00.

Considerando todos os funcionários da empresa, o salário médio geral é:

- A. () R\$ 2.300,00
- B. () R\$ 2.360,00**
- C. () R\$ 2.400,00
- D. () R\$ 2.500,00

CONHECIMENTOS GERAIS/ ATUALIDADES

QUESTÃO 11

Analise as afirmativas a seguir onde constam as fontes de energia presentes em nosso planeta:

- I. Solar.
- II. Nuclear.
- III. Geotérmica.
- IV. Carvão mineral.
- V. Ondas e marés.

Sobre as afirmativas, é correto afirmar que:

- A. () As afirmativas I e II são fontes de energia renováveis; III, IV e V são fontes de energia não renováveis.
- B. () As afirmativas II e IV são fontes de energia não renováveis; I, III e V são fontes de energia renováveis.**
- C. () As afirmativas II e IV são fontes de energia renováveis; I, III e V são fontes de energia não renováveis.
- D. () As afirmativas I e III são fontes de energia renováveis; II, IV e V são fontes de energia não renováveis.




QUESTÃO 12

A respeito das fontes de energia renováveis. Numerar a 2ª coluna de acordo com a 1ª e, após, assinalar a alternativa que apresenta a sequência CORRETA:

Coluna 1:

- 1. Energia Eólica.
- 2. Energia Hidrelétrica.
- 3. Energia Solar

Coluna 2:

()	
()	
()	

- A. () 3 - 2 - 1.
B. () 3 - 1 - 2.
C. () 1 - 3 - 2.
D. () 2 - 1 - 3.

QUESTÃO 13

Sobre a inauguração do supercomputador Jaci no Instituto Nacional de Pesquisas Espaciais (Inpe), analise as seguintes asserções e a relação proposta entre elas.

I. A implantação do supercomputador Jaci, no contexto do Projeto Risc, representa um avanço estratégico que visa, primordialmente, à soberania tecnológica e à capacidade operacional autônoma do Estado brasileiro em áreas sensíveis como previsão meteorológica, modelagem climática e monitoramento ambiental.

PORQUE

II. A dependência tecnológica em computação de alto desempenho (HPC) para modelagem ambiental e climática constitui uma vulnerabilidade geopolítica, uma vez que o acesso a dados e modelos de outros países pode ser condicionado ou não representar adequadamente as especificidades regionais, como as condições ambientais da América do Sul.

A respeito dessas asserções, assinale a alternativa **CORRETA**:

- A. () As asserções I e II são proposições verdadeiras, e a II é uma justificativa correta para a I.**
B. () As asserções I e II são proposições verdadeiras, mas a II não é uma justificativa correta para a I.
C. () A asserção I é uma proposição verdadeira, e a II é uma proposição falsa.
D. () A asserção I é uma proposição falsa, e a II é uma proposição verdadeira.

QUESTÃO 14

No final do ano de 2025, uma série de manifestações em massa lideradas por jovens da chamada Geração Z mobilizou amplos setores da população em um país europeu, exigindo mudanças políticas em razão de alegadas práticas de corrupção, insatisfação com políticas econômicas e falta de transparência no governo. Tais protestos resultaram na renúncia do chefe do Executivo desse país, que optou por deixar o cargo diante da magnitude das mobilizações populares. Considerando os acontecimentos recentes amplamente divulgados pelos veículos de imprensa internacional, assinale a alternativa que identifica corretamente o país europeu onde ocorreram essas manifestações que levaram à renúncia do chefe de Estado ou de Governo.

Fonte: <https://www.gazetadopovo.com.br/mundo/grandes-protestos-geracao-z-derrubam-primeiro-governo-europa/>

- A. () Hungria.
B. () Bulgária.
C. () Eslováquia.
D. () República Tcheca.

QUESTÃO 15

No ano de 2025, no contexto das tensões diplomáticas entre Brasil e Estados Unidos, o governo norte-americano anunciou a aplicação de sanções com base na Lei Magnitsky, instrumento jurídico utilizado para punir indivíduos acusados de violações graves de direitos humanos ou corrupção. As medidas foram interpretadas por analistas políticos como uma reação às investigações conduzidas no Brasil envolvendo o ex-presidente Jair Bolsonaro e aliados. As sanções atingiram cidadãos brasileiros, incluindo integrantes do Poder Judiciário. Contudo, no mês de dezembro de 2025, o governo dos Estados Unidos decidiu revogar a aplicação da Lei Magnitsky em relação a um ministro do Supremo Tribunal Federal (STF) e a seus familiares diretos, conforme noticiado por veículos de imprensa internacionais. Diante do exposto, assinale a alternativa que indica corretamente o nome do ministro do STF ao qual se refere a revogação das sanções.

Fonte: <https://www.bbc.com/portuguese/articles/c8dyy57pg54o>

- A. () Luís Roberto Barroso.
- B. () Gilmar Mendes.
- C. () **Alexandre de Moraes.**
- D. () Dias Toffoli.

CONHECIMENTOS ESPECÍFICOS/ LEGISLAÇÃO

QUESTÃO 16

Conforme o Artigo 31 da Lei de Diretrizes e Bases (LDB), a avaliação na educação infantil destina-se ao acompanhamento e registro do desenvolvimento das crianças. A legislação veda expressamente o uso da avaliação nesta etapa para fins de:

- A. () Retenção escolar.
- B. () Classificação por nível cognitivo.
- C. () **Promoção para o ensino fundamental.**
- D. () Diagnóstico de transtornos de aprendizagem.

QUESTÃO 17

No contexto da pedagogia da infância, a documentação pedagógica transcende o registro burocrático, constituindo-se como uma estratégia de sustentação da práxis docente. Tecnicamente, sua função primordial no processo educativo é a:

- A. () Comprovação de carga horária letiva.
- B. () Padronização das condutas infantis.
- C. () Justificativa para a reprovação discente.
- D. () **Tornar visível e reflexivo o processo de aprendizagem.**

QUESTÃO 18

As Diretrizes Curriculares Nacionais para a Educação Infantil (DCNEI) e a BNCC consolidam uma concepção de criança que rompe com o modelo de "tábula rasa". Sob essa ótica, a criança é definida tecnicamente como:

- A. () **Sujeito histórico e de direitos que produz cultura.**
- B. () Adulto em miniatura em processo de maturação.
- C. () Receptor passivo de estímulos sensoriais.
- D. () Objeto de intervenção assistencialista.

QUESTÃO 19

A Política Nacional de Educação Especial na Perspectiva da Educação Inclusiva determina que o Atendimento Educacional Especializado (AEE) não deve substituir a escolarização. Para o professor regente de sala comum, a educação inclusiva exige a:

- A. () Padronização dos ritmos de aprendizagem da turma.
- B. () **Flexibilização e adaptação curricular e arquitetônica.**
- C. () Substituição de conteúdos complexos do plano de ensino.
- D. () Delegação integral da aprendizagem ao professor de AEE.

QUESTÃO 20

A gestão democrática do ensino público, preconizada pelo Artigo 14 da LDB, deve ser assegurada por meio de mecanismos que garantam a participação da comunidade escolar. A lei define como instrumento essencial dessa participação a:

- A. () Escolha centralizada de diretores pelo Poder Executivo.

- B. () Fiscalização financeira externa e exclusiva pelo Estado.
C. () **Elaboração do projeto pedagógico por conselhos escolares.**
D. () Nomeação técnica de coordenadores pedagógicos por mérito.

QUESTÃO 21

Considerando o disposto na Lei de Diretrizes e Bases da Educação, (Lei nº 9.394/1996), analise as proposições abaixo.

- I. É dever dos pais ou responsáveis efetuar a matrícula das crianças na educação básica a partir dos cinco anos de idade.
II. O poder público, na esfera de sua competência federativa, deverá garantir aos pais, aos responsáveis e aos estudantes acesso aos resultados das avaliações de qualidade e de rendimento escolar nas instituições de ensino, diretamente realizadas por ele ou em parceria com organizações internacionais.
III. O ensino será ministrado com base na garantia do direito de acesso a informações públicas sobre a gestão da educação, dentre outros princípios.

Está(ão) CORRETO(S):

- A. () Somente os itens I e II.
B. () Somente os itens I e III.
C. () **Somente os itens II e III.**
D. () Todos os itens.

QUESTÃO 22

A respeito do Art. 4º *É dever da família, da comunidade, da sociedade em geral e do poder público assegurar, com absoluta prioridade, a efetivação dos direitos referentes à vida, à saúde, à alimentação, à educação, ao esporte, ao lazer, à profissionalização, à cultura, à dignidade, ao respeito, à liberdade e à convivência familiar e comunitária*, Lei nº 8.069/90 o Estatuto da Criança e do adolescente, de 13 de julho de 1990. Marcar (V) para as afirmativas Verdadeiras, (F) para as Falsas e, após, assinalar a alternativa que apresenta a sequência CORRETA:

- () Defesa técnica pelo Ministério Público.
() Receber proteção e socorro em qualquer circunstância.
() Precedência de atendimento em serviços públicos.

- A. () V - V - F.
B. () V - F - V.
C. () F - V - F.
D. () **F - V - V.**

QUESTÃO 23

A respeito do Art. 16 *O direito à liberdade compreende os seguintes aspectos*, da Lei nº 8.069/1990 – ECA. Marcar (V) para as afirmativas Verdadeiras, (F) para as Falsas e, após, assinalar a alternativa que apresenta a sequência CORRETA:

- () Participar da vida política, na forma da lei.
() Fornecer declaração de nascimento onde constem necessariamente as intercorrências do parto e do desenvolvimento do neonato.
() Buscar refúgio, auxílio e orientação.

- A. () V - V - F.
B. () **V - F - V.**
C. () F - V - F.
D. () V - V - V.

QUESTÃO 24

Considerando a Lei Federal n.º 13.415/2017, no que tange ao Art. 35-A. *A Base Nacional Comum Curricular definirá direitos e objetivos de aprendizagem do ensino médio, conforme diretrizes do Conselho Nacional de Educação, nas seguintes áreas do conhecimento*, analise os itens a seguir:

- I. Linguagens e suas tecnologias.
II. Matemática e suas tecnologias.
III. Ciências da natureza e suas tecnologias.
IV. Ciências humanas e sociais aplicadas.

Quantos dos itens anteriores são verdadeiros considerando o Art. 35-A, da Lei Federal n.º 13.415/2017?

- A. (☒) **Todos os 4.**
- B. (☐) Apenas 3 deles.
- C. (☐) Apenas 2 deles.
- D. (☐) Apenas 1 deles.

QUESTÃO 25

Considerando a Lei Federal nº 9.394/1996, de Diretrizes e Bases da Educação Nacional, no que tange ao *Art. 10. Os Estados incumbir-se-ão de*, analise os itens a seguir:

- I. Autorizar, reconhecer, credenciar, supervisionar e avaliar, respectivamente, os cursos das instituições de educação superior e os estabelecimentos do seu sistema de ensino.
- II. Ofertar o ensino noturno regular, não adequando-se às condições do educando.
- III. Baixar normas complementares para o seu sistema de ensino.

Quantos dos itens anteriores são verdadeiros considerando o Art. 10, da Lei Federal nº 9.394/1996, de Diretrizes e Bases da Educação Nacional?

- A. (☐) Todos os 3.
- B. (☒) **Apenas 2 deles.**
- C. (☐) Apenas 1 deles.
- D. (☐) Nenhum deles.